

Section- A / भाग - अ

Mental Ability / मानसिक योग्यता

1. उस विकल्प का चयन करें जो दिए गए संयोजन की जल छवि के समान है।

BK50RP62

- (A) BK20XB95 (B) BK90XB65
(C) BK20XB65 (D) BK20XB65 [D]

2. नीचे दिए गए प्रश्न में तीन कथन और उसके बाद तीन निष्कर्ष I, II और III दिए गए हैं। आपको दिए गए कथनों को सत्य मानना है भले ही वे सर्वज्ञात तथ्यों से भिन्न प्रतीत होते हों। सभी निष्कर्षों को पढ़ें और फिर तय करें कि दिए गए निष्कर्षों में से कौनसा सामान्य ज्ञात तथ्यों की उपेक्षा करते हुए, दिए गए कथनों का तार्किक रूप से अनुसरण करता है।
कथन: सभी स्कूल कॉलेज है। कुछ यूनिवर्सिटी संस्थान है। कोई स्कूल यूनिवर्सिटी नहीं है।
निष्कर्ष:

- I. सभी कॉलेज यूनिवर्सिटी है, यह एक संभावना नहीं है।
II. कोई कॉलेज यूनिवर्सिटी नहीं है, यह एक संभावना नहीं है।
III. कुछ संस्थान स्कूल नहीं है, यह एक संभावना नहीं है।

- (A) केवल I और II अनुसरण करते हैं।
(B) केवल II अनुसरण करता है।
(C) केवल III अनुसरण करता है।
(D) केवल I और III अनुसरण करते हैं। [D]

3. फिल्म निर्देशक लकी की मुख्य भूमिका के लिए एक अभिनेता चाहता है जो मूल पटकथा में दिखाई देने वाले विवरण में पूरी तरह फिट बैठता हो। वह ऐसे अभिनेता पर विचार करने को तैयार नहीं है जो उस चरित्र से मिलता-जुलता नहीं है जैसा कि उसे पटकथा में वर्णित किया गया है, चाहे वह कितना भी प्रतिभाशाली क्यों न हो। पटकथा लकी को एक औसत आकार, चालीस के आसपास, लाल बालों वाला, गहरी भूरी आँखें, बहुत गोरी त्वचा और एक शानदार मुस्कान के रूप में वर्णित करता है। कास्टिंग एजेंट के दिमाग में चार कलाकार होते हैं।

अभिनेता 1: एक शानदार लाल बालों में हैंडसम तो 5'9" का है और वह अपने मध्य बीसवें वर्ष में है। उसकी आँखें भूरी हैं और उसका रंग जैतूनी है।

अभिनेता 2: लाल बाल, गहरी भूरी आँखें और गोरा रंग है। वह अपने मध्य चालीसवें वर्ष में है और 5'5" का है।

अभिनेता 3: 5'4" और मध्यम कदकाठी का है। उसके लाल बाल, भूरी आँखें हैं और वह अपने प्रारम्भिक चालीसवें वर्ष में है।

अभिनेता 4: अपने प्रारम्भिक तीसवें वर्ष में एक नीली आँखों वाला लाल बालों वाला है। वह बहुत मामूली कदकाठी का है और 5' का है।

- (A) 1, 2 (B) 2, 3
(C) 3, 4 (D) इनमें से कोई नहीं [B]

4. सोहम ने अपने तीन दोस्तों को अपने बड़े स्क्रीन वाले टेलीविजन पर फुटबॉल का खेल देखने के लिए आमंत्रित किया है। वे सभी भूखे हैं, लेकिन कोई भोजन के लिए बाहर नहीं जाना चाहता। जिस समय वे इस बात पर बहस कर रहे होते हैं कि किसे खाना मँगवाना चाहिए, उस समय एक स्थानीय पिज़्ज़ेरिया के लिए टीवी स्क्रीन पर एक विज्ञापन आता है जो घर पर पिज़्जा पहुँचाता है। स्क्रीन पर फ़ोन नंबर थोड़ी देर के लिए चमकता है और वे सभी इसे याद करने की कोशिश करते हैं। जब तक सोहम कलम और कागज पकड़ता है, उनमें से प्रत्येक को एक अलग संख्या याद आती है।

#1: सभी पुरुष इस बात से सहमत हैं कि पहली संख्याएँ 67 हैं।

#2: तीन सहमत हैं कि तीसरी संख्या 2 है।

#3: उनमें से तीन इस बात से सहमत हैं कि चौथी संख्या 4 है।

#4: तीन सहमत हैं कि पाँचवीं संख्या चौथी संख्या से बड़ी है, लेकिन छठी संख्या से कम है।

#5: तीन सहमत हैं कि छठी संख्या 6 है; तीन अन्य भी सहमत हैं कि सातवीं संख्या 8 है।

इनमें से कौनसा नंबर पिज़्ज़ेरिया का टेलीफोन नंबर होने की सबसे अधिक संभावना है?

- (A) 6726548 (B) 6724568
(C) 6724758 (D) अपर्याप्त डेटा [B]

5. महेश एक दोस्त के साथ काम कर रहा है ताकि वह अपने शहर में खिलौनों की दुकान खोलने की योजना बना सके। वह एक ऐसी जगह की तलाश है जो या तो शहर के केंद्र में हो या उससे बहुत दूर न हो और जो सही प्रकार के पैदल यात्रियों को आकर्षित करे। निम्नलिखित में से किस स्थान पर महेश के मित्र को उसका ध्यान आकर्षित करना चाहिए?

(A) शहर के केंद्र में ट्रेन स्टेशन के पास एक नई ऊँची इमारत में एक सड़क की ओर मुख वाली दुकान (स्टोरफ्रंट), जिसमें रहने वाले मुख्य रूप से युवा, निःसंतान पेशेवर हैं जो प्रत्येक दिन अपने कार्यालयों में जाने के लिए ट्रेन का उपयोग करते हैं।

(B) शहर की मुख्य सड़क से तीन ब्लॉक दूर एक छोटी सी दुकान, एक प्राथमिक विद्यालय से सड़क के उस पार और एक आइसक्रीम की दुकान के बगल में स्थित है।

(C) शहर के केंद्र से दस ब्लॉक दूर एक शांत आवासीय सड़क पर एक स्टैंड अलोन स्टोरफ्रंट।

(D) शहर के बाहरी इलाके में स्थित एक छोटे स्ट्रिप मॉल में एक स्टोरफ्रंट जिसमें एक दवाई की दुकान और ड्राई क्लीनर का भी कब्जा है। [B]

6. हरियाणा पंजीकृत व्यावसायिक टैक्सी में हरियाणा से बगल के शहर (दूसरे राज्य) में यात्रा करते समय, आपका टैक्सी चालक आपको सूचित करता है कि उसके पास उस शहर में टैक्सी चलाने का कोई परमिट नहीं है, वह उसके परिवहन कार्यालय में रुकेगा और एक दिन के लिए ₹50 निर्धारित शुल्क का भुगतान करेगा। काउंटर पर शुल्क देते समय आप पाते हैं कि परिवहन क्लर्क ₹50 अतिरिक्त ले रहा है जिसकी कोई रसीद नहीं दी जा रही है। आप ऑफिस मीटिंग के लिए जल्दी में हैं। ऐसी परिस्थितियों में आप क्या करेंगे?

(A) बिलकुल हस्तक्षेप न करें क्योंकि यह टैक्सी चालक और कर अधिकारियों के बीच का मामला है।

(B) घटना पर ध्यान दें और बाद में संबंधित अधिकारियों को मामले की सूचना दे।

(C) काउंटर पर जाएँ और क्लर्क से उस पैसे को वापस करने के लिए कहें जो उसने अवैध रूप से लिए हैं।

(D) इसे सामान्य मामला मानें और इसके बारे में भूल जाएँ। [B]

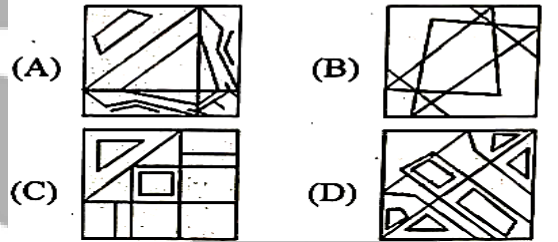
7. आप एक विश्वविद्यालय में प्रोफेसर हैं और एक विशेष विषय पर एक परीक्षा पत्र तैयार कर रहे हैं। आपका एक सहकर्मी, जिसकी बेटी उस विषय की परीक्षा की तैयारी कर रही है, आपके पास आता है और आपको सूचित करता है कि यह उसकी बेटी के पास परीक्षा उत्तीर्ण करने का आखिरी मौका है और क्या आप यह बताकर उसकी मदद कर सकते हैं कि परीक्षा में कौन से प्रश्न पूछे जाने वाले हैं। पूर्व में आपके सहकर्मी ने किसी अन्य मामले में आपकी मदद की थी। आपके सहकर्मी ने आपको सूचित किया कि यदि वह इस परीक्षा में अनुत्तीर्ण हो जाती है तो उसकी पुत्री अवसाद से ग्रस्त हो जाएगी। ऐसी परिस्थितियों में आप क्या करेंगे?

- (A) उसने आपको जो मदद दी थी, उसे देखते हुए अपनी मदद उसकी ओर बढ़ाएँ।
 (B) उच्च अधिकारियों को अपने सहयोगी के आचरण की रिपोर्ट करें।
 (C) अपने सहयोगी को समझाएँ कि यह विश्वविद्यालय के अधिकारियों के विश्वास का उल्लंघन होगा और आप उसकी मदद करने की स्थिति में नहीं हैं।
 (D) पछतावा करेंगे कि आप उसके लिए कोई मदद नहीं कर सकते हैं। [C]
8. नीचे दिए गए एक प्रश्न में एक कथन के बाद दो पूर्वधारणाएँ I और II दी गई हैं। एक धारणा कुछ मोनी या ली गई है। आपको कथन और पूर्वधारणाओं पर विचार करना है और फिर निर्णय लेना है कि कौन सी पूर्वधारणा कथन में निहित है/हैं। आपको कथन को सत्य मानना है भले ही वह सर्वज्ञात तथ्यों से भिन्न प्रतीत होता हो।
 कथन: स्कूल ने ऐसे छात्रों को स्कूल से निकालने का फैसला किया है जो हिंसा पैदा कर रहे हैं और स्कूल में नियमों का पालन नहीं कर रहे हैं।
 पूर्वधारणाएँ :
 I. छात्रों को स्कूल से निकालने से छात्र भविष्य में फिर कभी ऐसा नहीं करेंगे।
 II. इस कार्रवाई से स्कूल में अनुशासन बना रहता है।
 (A) केवल धारणा I अंतर्निहित है।
 (B) केवल धारणा II अंतर्निहित है।
 (C) या तो धारणा I या II अंतर्निहित है।
 (D) न तो धारणा I और न ही II अंतर्निहित है। [B]
9. यदि किसी निश्चित कूट भाषा में EQUATION को ZFJVMLRG के रूप में कूटबद्ध किया जाता है, तो उसी कूट भाषा में FORECAST को कैसे कूटबद्ध किया जाएगा?
 (A) EROFTSAC (B) ULIVXZHG
 (C) EFORSATA (D) VILUGHZX [D]
10. दी गई श्रृंखला में समान पैटर्न का अनुसरण करते लुप्त संख्या ज्ञात कीजिए।
 29AI, 3CL8, FO47, 56JR, (?)
 (A) 50U6 (B) 6NV5
 (C) 50V6 (D) 6OUS [A]
11. दोनों कथनों को पढ़ें और तय करें कि निम्नलिखित में से कौन सा उत्तर विकल्प इन दोनों कथनों के बीच संबंध को सही ढंग से दर्शाता है:
 कथन:
 I. कार निर्माण कंपनियों ने हाल ही में मध्यम आकार की कारों की कीमतों में वृद्धि की है।
 II. सरकार ने हाल ही में मध्यम आकार की कारों पर शुल्क बढ़ाया है।
 (A) कथन I कारण है और कथन II इसका प्रभाव है।
 (B) कथन II कारण है और कथन I इसका प्रभाव है।
 (C) कथन I और II दोनों स्वतंत्र कारण हैं।
 (D) कथन I और II दोनों स्वतंत्र कारणों के प्रभाव हैं। [B]
12. एक कंपनी को यह तय करने की आवश्यकता है कि क्या एक नए प्रौद्योगिकी मंच में निवेश करना है या अपने मौजूदा मंच का उपयोग करना जारी रखना है। यह निर्णय लेते समय कंपनी को किस कारक पर सबसे अधिक विचार करना चाहिए?
 (A) नए मंच के संभावित लाभ
 (B) मौजूदा सिस्टम के साथ नए मंच की अनुकूलता
 (C) नए मंच में निवेश की लागत
 (D) कर्मचारी उत्पादकता पर संभावित प्रभाव [A]

13. छह पुस्तकें - अंग्रेजी, हिंदी, विज्ञान, कंप्यूटर, गणित और संस्कृत प्रत्येक में अलग-अलग पृष्ठों की संख्या है। कंप्यूटर की पुस्तक में केवल दो पुस्तकों की तुलना में कम पृष्ठ होते हैं। अंग्रेजी की पुस्तक में विज्ञान की पुस्तक से ज्यादा लेकिन संस्कृत की पुस्तक से कम पृष्ठ हैं। विज्ञान की पुस्तक में सबसे कम पृष्ठ नहीं हैं। संस्कृत की पुस्तक में हिंदी की पुस्तक की तुलना में कम पृष्ठ। वह पुस्तक जिसमें तीसरे सबसे कम पृष्ठ हैं, उसमें 28 पृष्ठ हैं।
 कितनी पुस्तकों में विज्ञान की पुस्तक से अधिक पृष्ठ हैं?
 (A) चार (B) दो
 (C) तीन (D) इनमें से कोई नहीं [A]
14. नीचे दिखाए गए चित्र में, त्रिभुजों की संख्या गिनें:

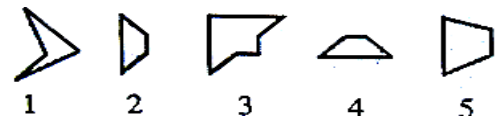


- (A) 26 (B) 27
 (C) 28 (D) 30 [C]
15. दी गई उत्तर आकृतियों में से उसे चुनिए जिसमें प्रश्न आकृति सन्निहित है।



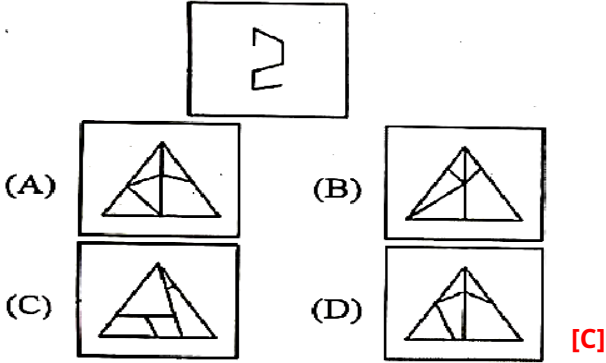
16. उस विकल्प का चयन करें जो दिए गए संयोजन की छवि के समान है।
 GR98AP76ES
 (A) GB08VPJ9E2
 (B) GB68VPJ9E2
 (C) CR08VPJ9E2
 (D) GB08APJ9ES [A]

17. उस विकल्प का चयन करें जो नीचे दी गई पाँच आकृतियों में से तीन का प्रतिनिधित्व करता है जो एक-दूसरे में फिट होने पर एक पूर्ण चौकोर (वर्ग) बनाती है।



- (A) 345 (B) 134
 (C) 125 (D) 234 [D]

18. दी गई आकृतियों में से उसे चुनिए जिसमें प्रश्न आकृति सन्निहित है।



19. नीचे दिए गए प्रश्न का उत्तर देने के लिए निम्नलिखित जानकारी को ध्यानपूर्वक पढ़ें:

- (i) $M * N$ का अर्थ है M, N का पिता है।
(ii) $M - N$ का अर्थ है M, N की बहन है।
(iii) $M + N$ का अर्थ है M, N की माता है।
(iv) M / N का अर्थ है M, N का भाई है।
संबंधित $Q + D * P / N$ में, P, Q से किस प्रकार संबंधित है।

- (A) दादा (B) पोता
(C) बेटा (D) बेटा [B]

20. 400 लोगों के एक नगर में, 185 तमिल बोलते हैं, 165 पंजाबी बोलते हैं, और 160 अंग्रेजी बोलते हैं। 40 केवल अंग्रेजी और तमिल दोनों बोलते हैं। 20 केवल पंजाबी और तमिल दोनों बोलते हैं। 10 केवल अंग्रेजी और पंजाबी दोनों बोलते हैं। कितने लोग केवल एक भाषा बोलते हैं?

- (A) 310 (B) 201
(C) 210 (D) 301 [A]

21. बिंदु B, बिंदु A के 7 किमी पश्चिम में है। बिंदु C, बिंदु E के 12 किमी दक्षिण में है। बिंदु A, बिंदु C के 5 किमी पूर्व में है। बिंदु D, बिंदु C के 8 किमी उत्तर में है। बिंदु G, बिंदु D के 6 किमी पश्चिम में है। बिंदु H, बिंदु G के 14 किमी दक्षिण में है। यदि शुभम बिंदु H 6 किमी पूर्व में खड़ा है और 6 किमी की दूरी पूरी करने में 1 घंटा लेता है, तो वह कितने समय में बिंदु E पर पहुँचेगा, अगर उसके द्वारा सबसे छोटा रास्ता लिया जाए?

- (A) 120 मिनट (B) 180 मिनट
(C) 115 मिनट (D) 159 मिनट [B]

22. प्रश्नवाचक चिह्न के स्थान पर उपयुक्त उत्तर ढूँढ़िए।
16:22:36: ?

- (A) 43 (B) 26
(C) 53 (D) 46 [D]

(प्र.सं. 23 एवं 24): A से H तक के 8 व्यक्ति एक वर्गाकार मेज के चारों ओर इस प्रकार बैठते हैं कि 2 व्यक्ति प्रत्येक भुजा के मध्य में बैठते हैं। मेज के एक ओर बैठे व्यक्तियों का मुख मेज के ठीक विपरीत ओर बैठे व्यक्तियों की ओर है। A, E के ठीक दायें बैठा है। G का मुख उस व्यक्ति की ओर है जो B के बायें दूसरे स्थान पर है। A और G के बीच 3 व्यक्ति बैठे हैं। F और D के बीच दो व्यक्ति बैठे हैं (केवल एक तरफ से गिने जाने पर), जो E के निकट है G और C के मध्य केवल एक व्यक्ति बैठा है (केवल एक ओर से गिने जाने पर)। A, F के निकट नहीं है।

23. निम्नलिखित में से कौन E की ओर उन्मुख व्यक्ति के दायें दूसरे स्थान पर बैठा है?

- (A) C (B) D
(C) F (D) या तो C या D [B]

24. E और F के मध्य कितने व्यक्ति बैठे हैं?

- (A) 3 (B) 4
(C) 2 (D) इनमें से कोई नहीं [A]

25. स्कूल के प्रधानाचार्य को मध्यावकाश के दौरान स्कूल के प्रांगण में धमकाने के बारे में माता-पिता से शिकायतें मिली हैं। वह जल्द से जल्द इस स्थिति की जाँच और इसे समाप्त करना चाहते हैं, इसलिए उसने मध्यावकाश सहायकों को बारीकी से देखने के लिए कहा है। मध्यावकाश सहायकों को किस स्थिति की सूचना प्रधानाचार्य को देनी चाहिए?

- (A) एक लड़की एक बेंच पर एक किताब पढ़ रही है और अपने साथियों के साथ बात-चीत नहीं कर रही है।
(B) चार लड़कियाँ एक और लड़की के आस-पास हैं और ऐसा लगता है कि उसके बैकपैक पर कब्जा कर लिया गया है।
(C) दो लड़के बास्केट बॉल का एक-एक खेल खेल रहे हैं और आखिरी बास्केट स्कोर पर बहस कर रहे हैं।
(D) तीन लड़के हाथ से चलने वाले वीडियो गेम के लिए आपस में उलझे हुए हैं, जो स्कूल के मैदान में नहीं होना चाहिए। [B]

26. श्रीमती दिक्षा ने लंच के लिए अपनी तीन सहेलियों से मिलने के लिए टैक्सी ली। वे रेस्टोरेंट के बाहर उसका इंतजार कर रही थीं जब वह कार में रुकी। वह अपनी सहेलियों से मिलने के लिए इतनी उत्साहित थी कि अपना बैग टैक्सी में ही छोड़ गई। जैसे ही टैक्सी चली गई, उसने और उसकी सहेलियों ने लाइसेंस प्लेट संख्या पर ध्यान दिया ताकि वे टैक्सी कंपनी को कॉल करने पर कार की पहचान कर सकें।

1: चारों महिलाएँ इस बात से सहमत प्रतीत होती हैं।

कि प्लेट की शुरुआत J अक्षर से होती है।

2: उनमें से तीन सहमत हैं कि प्लेट 12L के साथ समाप्त होती है।

3: उनमें से तीन सोचती हैं कि दूसरा अक्षर X है, और अन्य तीन सोचती हैं कि तीसरा अक्षर K है।

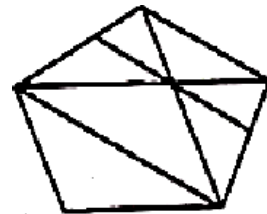
नीचे दी गई चार लाइसेंस प्लेट संख्याएँ दर्शाती हैं कि चार महिलाओं में से प्रत्येक क्या सोचती है कि उसने क्या देखा। टैक्सी की लाइसेंस प्लेट संख्या कौन सी होने की संभावना सबसे अधिक है?

- (A) JXK 12I
(B) JYK 12L
(C) JXK 12L
(D) JXX 12L [C]

27. यदि किसी निश्चित कूट भाषा में DESERT को उसी कूट भाषा में BUDGET को कौसे कूटबद्ध किया जाएगा?

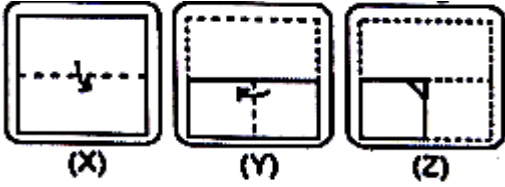
- (A) CVGKGU
(B) CWJGHU
(C) CWGJGU
(D) CVJGUG [C]

28. निम्नलिखित आकृति में चतुर्भुजों की संख्या गिने:

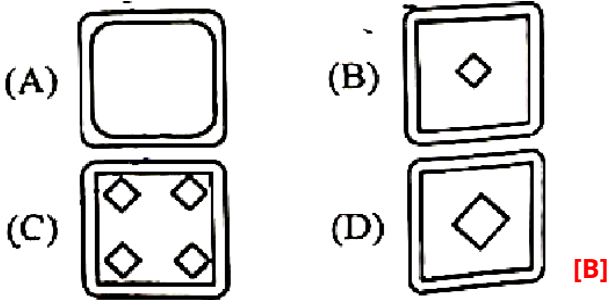


- (A) 7 (B) 8
(C) 10 (D) 12 [C]

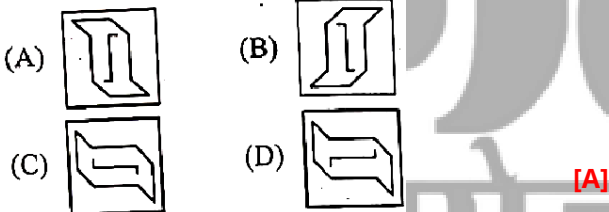

29. निम्नलिखित प्रश्न में तीन आकृतियों X, Y और Z का एक सेट है जो कागज के एक टुकड़े को मोड़ने का क्रम दर्शाता है। आकृति Z उस तरीके को दिखाता है जिसमें मुड़े हुए कागज को काटा गया है। नीचे दी गई चार उत्तर आकृतियों में से एक ऐसी आकृति चुनें जो आकृति Z के खुले हुए रूप से सबसे अधिक मिलती-जुलती हो।



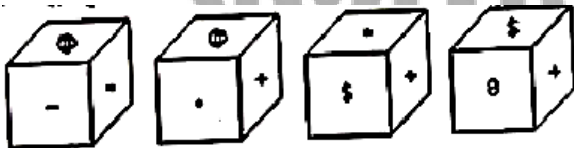
उत्तर आकृतियाँ :



30. यदि रेखा पर एक दर्पण रखा जाए, तो दी गई उत्तर आकृतियों में से कौनसी आकृति दी गई आकृति का सही प्रतिबिम्ब है?

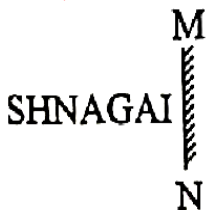


31. * चिह्न वाले फलक के विपरीत फलक पर कौनसा चिह्न होगा?



- (A) @ (B) 8
(C) \$ (D) +

32. यदि दर्पण को रेखा MN पर रखा जाए, तो दी गई उत्तर आकृतियों में से कौनसी आकृति दी गई आकृति का सही प्रतिबिम्ब है?



- (A) ZHNA@AI (B) IAGAIH2
(C) IAGANHS (D) IAGAIHS

33. निम्नलिखित शब्दों को शब्दकोश के क्रम के अनुसार क्रम में रखें:

1. Successor 2. Successive
3. Successful 4. Success
5. Succession

- (A) 4,5,3,2,1 (B) 3,5,4,2,1
(C) 4,3,5,2,1 (D) 1,2,3,5,4

34. दिए गए वैकल्पिक शब्दों में से वह शब्द चुनिए जो दिए गए शब्द के अक्षरों का प्रयोग करके नहीं बनाया जा सकता है:

LEGALIZATION

- (A) ALERT (B) GALLANT
(C) ALEGATION (D) NATAL

35. एक आदमी सिर नीचे और पैर ऊपर करके योग कर रहा है। उसका मुख पश्चिम की ओर है, उसका बायाँ हाथ किस दिशा में है?

- (A) उत्तर (B) पूर्व
(C) पश्चिम (D) दक्षिण

36. दिये गये कूट के अनुसार उत्तर अंकित करें:

अभिकथन (A): कठोर जल में कपड़े ठीक से नहीं धोए जाते।
कारण (R): कठोर जल में अनेक खनिज होते हैं।

- (A) (A) और (R) दोनों सत्य हैं तथा (R), (A) का सही स्पष्टीकरण है।
(B) (A) और (R) दोनों सही हैं तथा (R), (A) का सही स्पष्टीकरण नहीं है।

(C) (A) सही है, लेकिन (R) गलत है।

(D) (A) गलत है, लेकिन (R) सही है।

37. संख्या 0.64204, 0.64203, 0.64202, 0.64201 का औसत है।

- (A) 0.64202 (B) 0.642021
(C) 0.642022 (D) 0.642025

38. 14 फरवरी, 2012 को सप्ताह का कौनसा दिन था?

- (A) रविवार (B) सोमवार
(C) मंगलवार (D) बुधवार

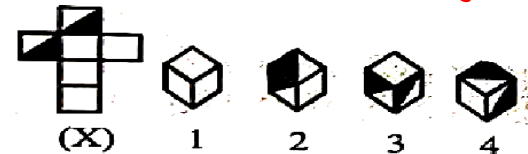
39. यदि किसी निश्चित कूट भाषा में HOPEFUL को KLSVIFO के रूप में लिखा जाता है, तो उसी कूट भाषा में CAPTAIN को कैसे कूटबद्ध किया जाएगा?

- (A) FZSGZRO (B) GEGSRDQ
(C) FZSGCLQ (D) FZSGDRQ

40. प्रश्नवाचक चिह्न के स्थान पर उपयुक्त उत्तर ढूँढ़िए।
392: 15:521: ?

- (A) 7 (B) 13
(C) 17 (D) 21

41. दी गई कागज की शीट (X) से बने बॉक्स को चुनें।



- (A) केवल 1 और 2 (B) केवल 2 और 3
(C) केवल 3 और 4 (D) केवल 1 और 4

42. प्रारंभ में घड़ी में 1:30 PM बज रहे थे, 1,44,356 मिनट के बाद क्या समय होगा?

- (A) 7:15 PM
(B) 7:26 PM
(C) 7:30 PM
(D) 8:00 PM

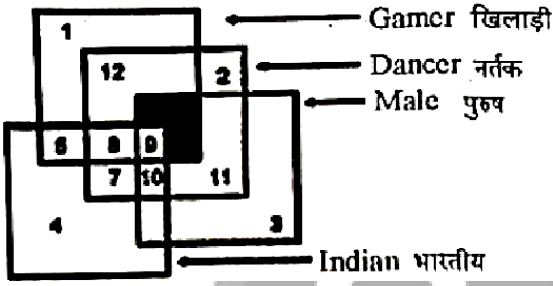
43. कुंजन, लीला, मेहुल, निकुंज, ओम, प्रियांक और क्वीन खाने के लिए एक गोलाकार डाइनिंग टेबल पर बैठे हैं। क्वीन, प्रियांक और मेहुल के बीच नहीं है। ओम, कुंजन और निकुंज का पड़ोसी है। लीला क्वीन के बायें दूसरे स्थान पर है। प्रियांक, कुंजन के ठीक दायें है। लीला के ठीक दायें कौन बैठा है?

- (A) मेहुल (B) प्रियांक
(C) कुंजन (D) क्वीन [A]

44. छात्रों की एक निश्चित संख्या एक सीधी रेखा में खड़ी है, और उन सभी का मुख उत्तर की ओर है। अरुंधति पंक्ति के दायें छोर से 19वें स्थान पर है, और अरविंद पंक्ति के बायें छोर से 15वें स्थान पर है। अरुंधति और अरविंद दोनों ने अपने स्थान आपस में बदल लिए, जिसके बाद कीर्ति जो बाएँ छोर से 24वें स्थान पर थी अब अरविंद के नए स्थान की बायीं ओर 5वें स्थान पर है। पंक्ति में कुल कितने छात्र हैं?

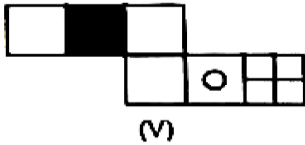
- (A) 45 (B) 47
(C) 49 (D) निर्धारित नहीं किया जा सकता है। [B]

45. खिलाड़ी पुष्प जो गैर-नर्तक (नर्तक नहीं है) और भारतीय है, किस संख्या द्वारा दर्शाए गए है?

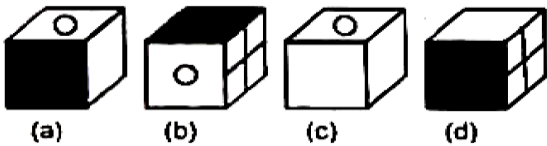


- (A) 5 (B) 7
(C) 10 (D) कोई नहीं [D]

46. उस बॉक्स को चुनें जो दिए गए कागज की शीट से बने बॉक्स (V) के समान है।



(V)



- (A) केवल (a) और (b) (B) केवल (c) और (d)
(C) केवल (b), (c) और (d) (D) केवल d [B]

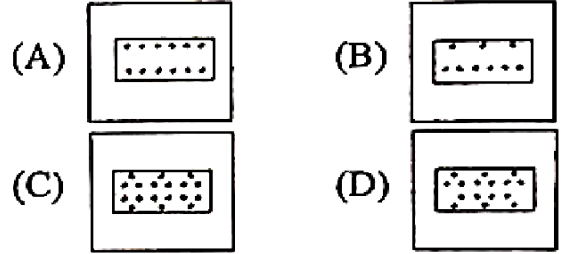
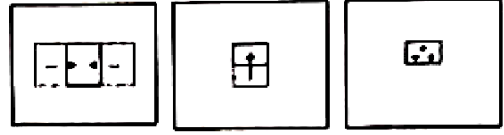
47. 3:30 बजे, घड़ी की घंटे की सूई और मिनट की सूई का कोण बनाती है।

- (A) 60° (B) 75°
(C) 90° (D) 100° [B]

48. दी गई श्रृंखला में समान पैटर्न का अनुसरण करते हुए लुप्त संख्या ज्ञात कीजिए।

- 15, 17, 23, 35, 55, 85, (?)
(A) 92 (B) 112
(C) 120 (D) 127 [D]

49. प्रश्न में, कागज के एक टुकड़े को मोड़ा और काटा गया है, जैसा कि नीचे प्रश्न आकृतियों में दिखाई गया है। दिए गए विकल्प चित्रों से, बताइयें कि खोले जाने पर यह कैसा दिखाई देगा।



50. निम्नलिखित प्रश्न में कथन दिए गए हैं और इन कथनों के बाद निष्कर्ष दिए गए हैं। आपको दिए गए कथनों को सत्य मानना है भले ही वे सर्वज्ञात तथ्यों से भिन्न प्रतीत होते हों। निष्कर्षों को पढ़ें और फिर निर्धारित करें कि दिए गए निष्कर्षों में से कौनसा सामान्य ज्ञात तथ्यों की उपेक्षा करते हुए, दिए गए कथनों का तार्किक रूप से अनुसरण करता है।

कथन: सभी बोटलें बॉक्स है।
कुछ बॉक्स थैले है। कुछ थैले सूटकेस है।
निष्कर्ष:

- I. कुछ थैले बोटलें है।
II. कुछ सूटकेस बॉक्स है।
III. कुछ बोटलें थैले है।
IV. कुछ बोटलें सूटकेस है।
(A) केवल I (B) केवल II
(C) केवल III (D) इनमें से कोई नहीं [D]

Section - B / भाग-ब
Teacher Aptitude and Attitude /
शिक्षक अभिक्षमता एवं अभिवृत्ति

51. मान लीजिए कि एक शिक्षक छात्रों से गृह कार्य जमा करने के लिए कहता है। छात्र आमतौर पर लिखित दस्तावेज के रूप में असाइनमेंट तैयार करते हैं और शिक्षक को जमा कराते हैं। शिक्षक सत्रीय कार्य का मूल्यांकन करता है, सत्रीय कार्य में अपनी टिप्पणी/सुझाव लिखता है और छात्रों को वापस लौटाता है। इस स्थिति में संदेश कैसे दिया जाता है?
(A) गैर-मौखिक संचार (B) मौखिक संचार
(C) पारस्परिक संचार (D) अंतर्व्यक्तिक संचार [A]
52. मौखिक संचार में संचार के माध्यम से संदेश देना शामिल है-
(A) व्यक्तिगत उपस्थिति और मौखिक
(B) मौखिक और लिखित
(C) लिखित और चेहरे की अभिव्यक्ति
(D) मौखिक और नेत्र संपर्क [B]
53. तकनीक का उपयोग छात्रों के स्वभाव और व्यवहार को समझने के लिए किया जाता है।
(A) व्यक्तिगत उपस्थिति (B) मुद्रा
(C) हाव-भाव (D) नेत्र संपर्क [A]
54. संचार की प्रक्रिया के दौरान, बाधा दोषपूर्ण भाव, खराब अनुवाद, अस्पष्ट शब्द और अनुपयुक्त शब्दावली का निर्माण करती है-
(A) शारीरिक (B) सामाजिक-सांस्कृतिक
(C) भाषा - संबंधी (D) मनोवैज्ञानिक [C]
55. 'ऑक्सीजन को O₂ द्वारा दर्शाया जाता है।'
यह किस प्रकार का ज्ञान है?
(A) प्रक्रियात्मक ज्ञान (B) परासंज्ञानात्मक ज्ञान
(C) सकल्पनात्मक ज्ञान (D) तथ्यात्मक ज्ञान [B]
56. किस प्रकार का संचार एक संगठन के भीतर व्यक्तियों और समूहों को स्थापित संगठनात्मक लक्ष्यों को प्राप्त करने के लिए संवाद करने में सहायता करता है ?
(A) अंतर्व्यक्तिक संचार (B) पराव्यक्तिक संचार
(C) लघु समूह संचार (D) संगठनात्मक संचार [D]
57. सीखने के संदर्भ में निम्नलिखित में से कौन सा वाक्य गलत है?
(A) सीखना एकात्मक है।
(B) सीखना व्यक्तिगत है, सामाजिक नहीं।
(C) सीखना व्यक्ति के व्यवहार को संशोधित करता है।
(D) सीखना जीवन में चुनाव करने में मदद करता है। [B]
58. निम्नलिखित में से कौन सा वाक्य 'अध्यापन' के लिए सही है ?
(A) पाठ्यक्रम पूरा करने के लिए गतिविधियों का संचालन करना।
(B) केवल एक व्यक्ति के विकास से संबंधित है।
(C) व्यवहार को बदलने के उद्देश्य से पारस्परिक प्रभाव का रूप
(D) सीखने का अनुकरण, मार्गदर्शन, दिशा और प्रोत्साहन [D]
59. मनोविज्ञान में जागरूकता के बारे में एक अवधारणा है।
(A) घटनाओं को जानने, समझने और जानने की स्थिति
(B) कुछ जानने की स्थिति (C) जागरूक होने की स्थिति
(D) इनमें से कोई नहीं [A]
60. शिक्षण प्रभावी नहीं है जब
(A) छात्र सक्रिय रूप से शामिल हैं।
(B) यह सुनियोजित है।
(C) विभिन्न परिस्थितियों को विभिन्न तकनीकों के साथ अनुकूलित किया जाता है।
(D) संचार प्रभावी रूप से पारस्परिक नहीं है। [D]

61. अस्वास्थ्यकर संबंधों का प्रमुख स्रोत है।
(A) घबराहट (B) निराशा
(C) संस्थागत अराजकता (D) संस्थागत तनाव [D]
62. पारस्परिक संबंधों की प्रकृति और गुणवत्ता संस्था के और को बहुत प्रभावित करती है-
(A) वातावरण, कार्य (B) वातावरण, विकास
(C) वातावरण, लोकाचार (D) वातावरण, जीवन [A]
63. किसी शिक्षण संस्थान में निर्णय लेने के लिए कौन सा पदानुक्रम शीर्ष - तल दृष्टिकोण का अनुसरण करता है ?
(A) निदेशक, प्रधानाध्यापक, प्रबंधन और अध्यापक
(B) प्रधानाध्यापक, अध्यापक, निदेशक और प्रबंधन
(C) प्रबंधन, निदेशक, प्रधानाध्यापक और अध्यापक
(D) अध्यापक, प्रधानाध्यापक, निदेशक, प्रबंधन [C]
64. अंतर्व्यक्तिक संबंधों के लिए दो महत्वपूर्ण और निर्णायक कारक कौन से हैं?
(A) ईमानदारी और विश्वास
(B) विश्वास और सम्मान
(C) ईमानदारी और निर्णय
(D) विश्वास और सम्मान तथा ईमानदारी और निर्णय दोनों [D]
65. संस्थान का कर्मचारी सदस्यों और प्रबंधन के बीच उचित व्यावसायिक संबंध बनाए रखने के लिए एक सेतु है।
(A) प्रमुख (B) पर्यवेक्षक
(C) निदेशक (D) समन्वयक [A]
66. 'शिक्षा पर SDG -4 शिक्षा 2023 का ढाँचा गुणवत्तापूर्ण शिक्षा की नींव के लिए तौर-तरीकों को शामिल करने पर जोर देता है।'
ASDG-4 का क्या अर्थ है ?
(A) सोशल डेवलपमेंट गोल (B) सस्टेनेबल डेवलपमेंट गोल
(C) स्टैंडर्ड डेवलपमेंट गोल (D) सिस्टम डेवलपमेंट गोल [B]
67. "शैक्षणिक लक्ष्यों और शैक्षणिक आवश्यकताओं पर केंद्रित छात्रों के साथ संबंधों को बनाए रखना की जिम्मेदारी है।"
(A) संस्थान (B) प्रमुख
(C) छात्र (D) अध्यापक [D]
68. निम्नलिखित में से कौन से स्वस्थ अंतर्व्यक्तिक संबंधों को बढ़ावा देने के संकेत हैं ?
(A) परस्पर सम्मान और साझा जिम्मेदारी
(B) लक्ष्यों के लिए पारस्परिक प्रतिबद्धता
(C) बातचीत करने और बातचीत में शामिल होने कोई इच्छा नहीं है।
(D) परस्पर सम्मान और साझा जिम्मेदारी तथा लक्ष्यों के लिए पारस्परिक प्रतिबद्धता दोनों [D]
69. शिक्षक न केवल व्यक्तिगत रुचि के क्षेत्रों में बल्कि पाठ्यक्रम के लक्ष्यों या उद्देश्यों के लिए प्रासंगिक सभी क्षेत्रों में को बनाए रखने (या प्राप्त करने) के लिए जिम्मेदार है।
(A) दूसरों के साथ संबंध
(B) शैक्षणिक ज्ञान
(C) अच्छी तरह से परिभाषित मानकों
(D) विषय योग्यता [D]
70. विशेष अध्ययन और प्रशिक्षण पर आधारित है; यह सीमित अवधि के लिए आबादी के एक सीमित वर्ग के लिए एक निश्चित उद्देश्य के लिए कुशल सेवा और मार्गदर्शन प्रदान करता है और इसे स्वतंत्र रूप से या किसी संस्था के भीतर अभ्यास किया जा सकता है।
(A) पेशा (C) प्रशिक्षण
(B) नौकरी (D) कार्य [A]

71. इनमें से कौन-सी व्यवसाय की विशेषता नहीं है ?
 (A) व्यवसाय आवश्यक सामाजिक सेवा प्रदान करता है ।
 (B) व्यवसाय अपने सदस्यों के निरंतर सेवाकालीन प्रशिक्षण की माँग करता है ।
 (C) व्यवसाय में आचार संहिता शामिल है।
 (D) व्यवसाय विशेष ज्ञान और विस्तारित व्यावहारिक प्रशिक्षण के ढाँचे के आधिपत्य की माँग नहीं करता है । [D]
72. निम्नलिखित में से कौन सी शिक्षण व्यवसाय की विशेषता नहीं है ?
 (A) बौद्धिक संचालन में शामिल होना ।
 (B) कच्चे माल को एक व्यावहारिक और निश्चित अंत में बदलना ।
 (C) शैक्षिक रूप से संचारी तकनीक रखना ।
 (D) आत्म-संगठन की कमी। [D]
73. "शिक्षकों का व्यावसायिक विकास कोई घटना नहीं है, बल्कि यह एक प्रक्रिया है ।" यह प्रक्रिया प्रकृति में है-
 (A) स्थिर (B) निरंतर
 (C) तेज़ (D) धीमी [B]
74. एक शैक्षिक संस्थान में सभी विद्यार्थियों के कल्याण और विकास के प्रति प्रतिबद्धता अनिवार्य रूप से एक द्वारा प्रदर्शित की जाती है-
 (A) अध्यापक (B) प्रधानाध्यापक
 (C) प्रबंधन (D) निदेशक [A]
75. नीचे दिए गए कथनों में से कौन सा कथन विद्यार्थियों और विद्यार्थियों के अधिगम के प्रति शिक्षक की प्रतिबद्धता को प्रदर्शित नहीं करता है ?
 (A) अध्यापक सभी विद्यार्थियों के साथ असमान रूप से और अनादर के साथ व्यवहार करते हैं ।
 (B) अध्यापक सभी विद्यार्थियों के साथ समान रूप से और सम्मान के साथ व्यवहार करते हैं ।
 (C) अध्यापक सभी विद्यार्थियों के साथ सम्मान के साथ व्यवहार करते हैं ।
 (D) अध्यापक सभी विद्यार्थियों के साथ समान व्यवहार करते हैं [A]
76. छात्रों के कल्याण और सीखने के प्रति शिक्षक की प्रतिबद्धता के माध्यम से नहीं है ।
 (A) सकारात्मक प्रभाव (B) पेशेवर निर्णय
 (C) अभ्यास में समानुभूति (D) सख्ती बनाए रखना [D]
77. एसटीईएम (STEM) पाठ्यक्रम क्या है ?
 (A) साइंस टेक्नोलॉजी एज्युकेशन एंड मैथेमेटिक्स
 (B) साइंस टीचिंग इवेल्यूएशन एंड मैथेमेटिक्स
 (C) साइंस टेक्नोलॉजी इंजीनियरिंग एंड मैथेमेटिक्स
 (D) सोशियोलॉजी टेक्नोलॉजी एज्युकेशन एंड मैथेमेटिक्स [C]
78. निर्भरता - स्वतंत्रता के संदर्भ में विविधताएँ महत्वपूर्ण विचार हैं ।
 (A) मनोवृत्ति (B) योग्यता
 (C) आयु (D) दिलचस्पी [C]
79. एक छात्र सामाजिक रूप से परिपक्व कैसे होता है ?
 (A) एक छात्र सामाजिक रूप से परिपक्व तब हो सकता है जब वह कुछ ऐसे लोगों के संपर्क में आता है जिनके साथ वह सहज होता है और तदनुसार अपने विचारों को विकसित कर सकता है ।
 (B) एक छात्र सामाजिक रूप से परिपक्व तब हो सकता है जब वह उन लोगों के संपर्क आता है जो सामाजिक रूप से परिपक्व हैं ताकि वह उसके अनुसार अपने व्यवहार को उसी के अनुरूप बना सके ।
 (C) एक छात्र सामाजिक रूप से परिपक्व तब हो सकता है जब वह स्वयं के संपर्क में आता है और अपने दम पर समाज की समझ विकसित करता है ।
 (D) इनमें से कोई नहीं [B]

80. की प्रक्रिया के दौरान छात्र उस समाज की अपेक्षाओं पर खरा उतरना सीखते हैं जिसमें वे रहते हैं-
 (A) सामाजिक समायोजन (B) सामाजिक परिपक्वता
 (C) सामाजिक विकास (D) सामाजिक न्याय [B]
81. छात्र को यह जानने में मदद करता है कि उससे क्या वांछनीय और अपेक्षित है ।
 (A) प्रेरणा प्रदान करना
 (B) सख्त और लक्षित वातावरण प्रदान करना
 (C) छात्रों को उनकी इच्छा के अनुसार करने की अनुमति देना (सुविधाजनक वातावरण)
 (D) उपयुक्त प्रेरणास्रोत प्रदान करना । [D]
82. किसने 'प्ले वे' ('Play way') पद्धति की शुरुआत की ?
 (A) काल्डवेल कुक (B) प्रोबेल
 (C) मोंटेसरी (D) ब्लूम [A]
83. कौन सा कारक प्रभावित करता है कि एक माध्यमिक विद्यालय में पढ़ने वाला छात्र यह समझे कि समाज उनसे इस उम्र में बचपन के व्यवहार की ओर लौटने की उम्मीद नहीं करता है ?
 (A) निर्भरता - स्वतंत्रता की अवधारणा
 (B) आत्म-नियंत्रण (C) तनाव
 (D) सामाजिक परिपक्वता [D]
84. निम्नलिखित को सुमेलित कीजिए :

सूची-I (मापदंड)	सूची -II (विवरण)
a. नम्यता	1. प्रदर्शन के लिए स्पष्ट अपेक्षाएँ और मापदंडों को सेट करने की क्षमता
b. लोगों को जवाबदेह	2. परिस्थितियों की जरूरतों के अनुकूल होने और रणनीति बदलने की क्षमता और इच्छा
c. विद्यार्थियों का प्रबंधन	3. विद्यार्थियों की सहायता करने और उन्हें आत्मविश्वासी स्वतंत्र शिक्षार्थी बनने में मदद करने की क्षमता
d. सीखने का जुनून	4. स्पष्ट दिशा प्रदान करने और उन्हें उत्साहित करने और प्रेरित करने की क्षमता

- (A) a-2, b-1, c-4, d-3 (B) b-1, c-3, d-2, a-4
 (C) c-3, d-4, a-1, b-2 (D) d-4, a-2, b-3, c-1 [A]
85. निम्नलिखित में से क्या नेतृत्व की अवधारणा को परिभाषित करता है-
 (A) प्रभाव, निर्णायक, उम्मीदें
 (B) प्रभाव, उम्मीदें, संबंध
 (C) प्रभाव, संबंध, स्वैच्छिक प्रयास
 (D) प्रभाव, स्वैच्छिक प्रयास, लक्ष्य उपलब्धि [D]
86. नेतृत्व में, क्षमता को वास्तविकता में बदल देता है।
 (A) विश्लेषक (B) उत्प्रेरक
 (C) शिक्षाशास्त्री (D) सुविधाप्रदाता [D]
87. निम्नलिखित को सुमेलित कीजिए :

सूची-I (नेतृत्व मिथक)	सूची -II (विवरण)
a. हर कोई नेता बन सकता है।	i. शायद ही कभी
b. नेता परिणाम दे सकते हैं	ii. आवश्यक रूप से नहीं
c. शिखर पर पहुँचने वाले नेता बनते हैं	iii. हमेशा नहीं
d. नेता महान प्रशिक्षक होते हैं	iv. सही नहीं है

- (A) d-i, a-ii, b-iv, c-iii
 (B) b-i, c- iii, d-iv, a-ii
 (C) a-iv, b-iii, c-ii, d-i
 (D) c-i, d-ii, a-iii, d-iv [C]

88. गुणवत्तापूर्ण शिक्षा के लिए आईसीटी (ICT) के उपयोग पर द्वारा प्रकाश डाला गया था।

- (A) एनसीएफ (NCF) - 2005
(B) एनसीएफ (NCF) - 2009
(C) एनईपी (NEP) - 1968
(D) एनईपी (NEP) - 2020

[A]

89. नीचे दिए गए नेतृत्व विकास के लिए मजबूत आधार है। सूची-I को सूची-II से सुमेलित कीजिए :

सूची-I	सूची-II
a. जिम्मेदार नेता	i. उनके स्कूल के साथ - साथ आजीविका और व्यक्तिगत जीवन के लिए एक दीर्घकालिक योजना रखें।
b. केंद्रित करना	ii. उनके कार्यों के लिए मनोवैज्ञानिक स्वामित्व लें।
c. उद्भावना	iii. पहचान की जरूरत होती है जो सफलता के साथ जाती है।
d. विश्वसनीयता	iv. लगातार उनके दिमाग को नए विचारों से भरते रहें।

- (A) a-ii, b-I, c-iv, d-iii (B) b-ii, c-i, d-iv, a-iii
(C) c-ii, d-i, a-iv, b-iii (D) d-ii, a-I, b-iv, c-iii

[A]

90. निम्नलिखित में से कौन सी शैक्षिक प्रणाली में नेतृत्व की विशेषताएँ हैं-

- i. उदाहरण और प्रेरणा से नेतृत्व करें।
ii. व्यक्तिगत कार्यक्रमों का मार्गदर्शन करें, लेकिन उनके फैसले पर भरोसा करें।
iii. सामंजस्य उत्पन्न करें जिसके बिना सहयोग असंभव है।
iv. बढ़ते हुए संगठन में उत्पन्न होने वाले मतभेदों को हल न करें क्योंकि प्राथमिकता संगठन की वृद्धि है।
v. उपयोगी सुझावों को आगे बढ़ाकर समूह में योगदान दें।

- (A) i, iii, iv (B) ii, iii, v
(C) i, iii, v (D) (D) ii, iii, iv

[C]

91. नेता की दूरदर्शिता का संचार, अपने सपनों को दूसरों के सामने प्रकट करना और लोगों को उनके साथ जोड़ना है।

- (A) ध्यान का प्रबंधन (B) अर्थ का प्रबंधन
(C) विश्वास का प्रबंधन (D) स्वयं का प्रबंधन

[C]

92. नेतृत्व में सबसे आवश्यक कारक कौन से हैं?

- (A) अनुयायी, नेता और स्थिति
(B) अनुयायी, स्थिति और संचार
(C) नेता, स्थिति और संचार
(D) नेता, अनुयायी, स्थिति और संचार

[D]

93. शिक्षण के दौरान सीखने की प्रगति की निगरानी करने वाला मूल्यांकन है।

- (A) योगात्मक मूल्यांकन
(B) प्लेसमेंट मूल्यांकन
(C) अविरत (formative) मूल्यांकन
(D) नैदानिक मूल्यांकन

[C]

94. कोलबर्ग के अनुसार, एक शिक्षक विद्यार्थियों में नैतिक मूल्यों की स्थापना द्वारा कर सकता है।

- (A) व्यवहार के स्वच्छ नियम बनाना।
(B) कड़ी सजा देना।
(C) उनके साथ नैतिक मुद्दों पर चर्चा करना।
(D) धार्मिक शिक्षण को महत्व देना।

[C]

95. संचार शब्द लैटिन शब्द 'कम्युनिस' (communis) से लिया गया है जिसका अर्थ है

- (A) सामान्य बनाने के लिए (B) साझा करने के लिए
(C) विनिमय करने के लिए (D) ज्ञात करने के लिए

[A]

96. छात्र एक ऑडियो प्रोग्राम द्वारा भेजे गए संदेश का कूटानुवाद कैसे कर सकते हैं ?

- (A) दृश्यावलोकन के माध्यम से
(B) प्रदर्शन के माध्यम से
(C) समझ के माध्यम से
(D) व्याख्या के माध्यम से

[D]

97. संचार प्रक्रिया के घटक नीचे दिए गए हैं। उपयुक्त क्रम का चयन करें।

- (A) प्रेषक, प्राप्तकर्ता, प्रतिपुष्टि, शोर
(B) प्रेषक, प्राप्तकर्ता, माध्यम, शोर, प्रतिपुष्टि
(C) प्रेषक, संदेश, माध्यम, प्राप्तकर्ता
(D) प्रेषक, संदेश, माध्यम, प्राप्तकर्ता, प्रतिपुष्टि, शोर

[D]

98. संचार प्रेषक द्वारा संकल्पन और से शुरू होता है-

- (A) विचार के विकास (B) संदेश के विकास
(C) संदेश के संचरण (D) संदेश प्राप्त करना

[A]

99. संचार सावधानी से संदेश की योजना बनाता है और इसे प्रभावी ढंग से पहुँचाता है ताकि छात्रों के बीच आत्म-संचार का आह्वान किया जा सके।

- (A) पारस्परिक (B) मौखिक
(C) गैर-मौखिक (D) अंतर्व्यक्ति

[A]

100. मान लीजिए कि आप एक ऑडियो कार्यक्रम का उपयोग करके एक विषयवस्तु (अवधारणा) को पढ़ाने की योजना बना रहे। फिर, आपको ऑडियो प्रोग्राम के लिए आवश्यक लिपि लिखनी होगी। इसलिए, कक्षा में दी जाने वाली सामग्री लिपि में है।

- (A) एन्कोडेड
(B) डीकोडेड
(C) दोनों एन्कोडेड और डीकोडेड
(D) इनमें से कोई नहीं

[B]

Section - C / भाग-स
General Awareness/
सामान्य जागरूकता

101. निम्नलिखित में से कौन सा सिंधु घाटी सभ्यता की सबसे महत्वपूर्ण विशेषता प्रस्तुत करता है-
(A) जली हुई ईंट की इमारतें (B) पहले वास्तविक मेहराब
(C) पूजा की इमारतें (D) केला और वास्तुकला [A]
102. ब्राह्मण ग्रन्थ वे पुस्तकें हैं जिनका संबंध है-
(A) भक्ति सिद्धांत से (C) योग से [B]
(B) कर्मकांड से (D) ध्यान से
103. अजंता के चित्र किसकी कहानियों को चित्रित करते हैं ?
(A) रामायण (B) महाभारत
(C) जातक (D) पंचतंत्र [C]
104. स्वतंत्रता सेनानी श्री सूरजमल बसानिया के थे-
(A) बीकानेर (B) बाँसवाडा
(C) जैसलमेर (D) जोधपुर [B]
105. इलाहाबाद का अशोक स्तंभ किसके शासनकाल के बारे में जानकारी प्रदान करता है ?
(A) चंद्रगुप्त मौर्य (B) चंद्रगुप्त प्रथम
(C) समुद्रगुप्त (D) चंद्रगुप्त द्वितीय [C]
106. दक्षिण भारत के मंदिरों में पाए जाने वाले शक्तिशाली प्रवेशद्वार कहलाते हैं-
(A) शिखर (B) गोपुरम्
(C) मीनार (D) इनमें से कोई नहीं [B]
107. निम्नलिखित में से किस शासक को "अभिनव भारताचार्य" के नाम से जाना जाता है ?
(A) राणा प्रताप (B) राणा कुंभा
(C) हेमचंद्र विक्रमादित्य (D) महाराजा सूरजमल [B]
108. 1940 के 'अगस्त प्रस्ताव' ने की गारंटी देकर कांग्रेस से समझौता करने की कोशिश की।
(A) एक नया संविधान बनाने के लिए एक प्रतिनिधि भारतीय निकाय की स्थापना
(B) अल्पसंख्यकों के राजनीतिक अधिकारों की रक्षा के लिए सरकार का आश्वासन
(C) भारत का कोई विभाजन नहीं होगा
(D) दलित वर्गों के लिए अलग निर्वाचक मंडल प्रदान नहीं किया जाएगा [A]
109. भारत की सबसे उत्तरी सीमा है-
(A) 36°4'N अक्षांश (B) 37°08'N अक्षांश
(C) 37°6'N अक्षांश (D) 36° 12' N अक्षांश [C]
110. 10,000 फीट से ऊपर विश्व की सबसे लंबी राजमार्ग सुरंग किस राष्ट्रीय राजमार्ग पर स्थित है ?
(A) राष्ट्रीय राजमार्ग 3 (B) राष्ट्रीय राजमार्ग 8
(C) राष्ट्रीय राजमार्ग 12 (D) राष्ट्रीय राजमार्ग 18 [A]
111. अरब सागर में स्थित द्वीपों (भारतीय) की सबसे महत्वपूर्ण विशेषता क्या है ?
(A) वे सभी आकार में बहुत छोटे हैं।
(B) वे सभी प्रवाल मूल के हैं।
(C) उनके पास बहुत शुष्क जलवायु है।
(D) वे मुख्य भूमि के विस्तारित हिस्से हैं। [B]
112. उत्तर-पश्चिम में अंतर-उष्णकटिबंधीय अभिसरण क्षेत्र के मध्य में, शुष्क और गर्म हवाओं को '.....' के रूप में जाना जाता है।
(A) लू (B) मैंगो शावर
(C) नोर वेस्टर्स (D) ब्लोसम विंड [A]

113. भारत का विश्व का सबसे बड़ा उत्पादक है।
(A) मूँगफली (B) गेहूँ
(C) चावल (D) दालों [D]
114. तुमल्लापल्ले, जहाँ यूरेनियम के विशाल भंडार पाए जाते हैं, निम्नलिखित में से किस राज्य में स्थित है ?
(A) झारखंड (B) केरल
(C) तमिलनाडु (D) आंध्र प्रदेश [D]
115. FSI 2021 के अनुसार, निम्नलिखित में से किस राज्य में क्षेत्रफल के हिसाब से देश का सबसे बड़ा वन क्षेत्र है ?
(A) मध्य प्रदेश (B) गुजरात
(C) कर्नाटक (D) आंध्र प्रदेश [A]
116. अहोम जनजातियाँ कहाँ से प्रवासित हुई ?
(A) श्रीलंका (B) अफ़ग़ानिस्तान
(C) स्यांमार (D) ईरान [C]
117. निम्नलिखित में से कौन पहली भारतीय महिला थी जो अंतरिक्ष में गई थी ?
(A) शिरिषा बंदला (B) सुनीता विलियम्स
(C) कोनेरू हम्पी (D) कल्पना चावला [D]
118. निम्नलिखित कभी कार्यवाहक राष्ट्रपति में से कौन नहीं बना ?
(A) वी.वी. गिरि (B) जाकिर हुसैन
(C) बी.डी. जत्ती (D) एम. हिदायतुल्लाह [B]
119. निम्नलिखित में से किस महिला को स्वतंत्रता आंदोलन की "ग्रैंड ओल्ड लेडी" के रूप में जाना जाता है ?
(A) सरोजिनी नायडू (B) सुचेता कृपलानी
(C) अरुणा आसफ अली (D) एनी बेसेंट [C]
120. किस व्यक्ति को "भारत का बर्ड मैन" कहा जाता है ?
(A) सलीम अली (B) डॉ. रहेंद्र प्रसाद
(C) डॉ. श्रीकृष्ण सिंह (D) सलमान खान [A]
121. अमजद अली खान निम्नलिखित में से किस वाद्य यंत्र से संबंधित हैं-
(A) गिटार (B) वीणा
(C) सितार (D) सरोद [D]
122. यामिनी कृष्णमूर्ति निपुण प्रतिपादक हैं-
(A) कथक की (B) भरतनाट्यम की
(C) ओडिसी की (D) इनमें से कोई नहीं [B]
123. को लोकप्रिय रूप से प्लाइंग सिख के नाम से जाना जाता है।
(A) मनिंदर सिंह (B) युवराज सिंह
(C) संदीप सिंह (D) मिल्खा सिंह [D]
124. नोबेल पुरस्कार जीतने वाले पहले भारतीय वैज्ञानिक थे-
(A) अमर्त्य सेन (B) सी. वी. रमन
(C) हरगोबिंद खुराना (D) सुब्रमण्यन चंद्रशेखर [B]
125. भारत का शेक्सपियर किसे कहा जाता है ?
(A) महाकवि कालिदास (B) रबींद्रनाथ टैगोर
(C) मदर टेरेसा (D) भारथियार [A]
126. निम्नलिखित में से कौन सा क्योटो प्रोटोकॉल का प्राथमिक एजेंडा है?
(A) ग्रीनहाउस गैसों के मानवजनित स्रोतों को नियंत्रित करें।
(B) खतरनाक अपशिष्ट का विनियमन
(C) परमाणु ऊर्जा के उत्पादन को विनियमित करें।
(D) ग्लोबल वार्मिंग का विनियमन [A]
127. 'नमामि गंगे' परियोजना के मुख्य स्तंभ कौन से हैं?
(A) मल उपचार आधारभूत - संरचना
(B) रिवर - फ्रंट विकास
(C) रिवर - सतह सफाई
(D) ये सभी [D]

128. रामसर संरक्षण क्या है ?
 (A) यह आर्द्रभूमि के संरक्षण और विवेकपूर्ण उपयोग के बारे में है ।
 (B) यह वनों के संरक्षण के बारे में है ।
 (C) यह खनिज संसाधनों के संरक्षण के बारे में है ।
 (D) इनमें से कोई नहीं [A]
129. निम्नलिखित में से कौन सा अधिनियम, भूमि और अन्य संसाधनों पर जंगल में रहने वाले समुदायों के अधिकारों से संबंधित है ?
 (A) भारतीय वन अधिनियम, 1927
 (B) वन अधिकार अधिनियम (FRA), 2006
 (C) भारतीय वन संशोधन अधिनियम, 2019
 (D) इनमें से कोई नहीं [B]
130. ओजोन परत की रक्षा के लिए निम्नलिखित में से कौन सा सम्मेलन है ?
 (A) बेसल सम्मेलन (B) बॉन सम्मेलन
 (C) वियना सम्मेलन (D) इनमें से कोई नहीं [C]
131. इनमें से किस गैस को सरकार द्वारा प्रदूषण निवारण और नियंत्रण अधिनियम द्वारा निश्चित सीमा से अधिक जारी करने की अनुमति नहीं है ?
 (A) सल्फर डाइऑक्साइड (B) कार्बन डाइऑक्साइड
 (C) नाइट्रोजन (D) इनमें से कोई नहीं [A]
132. जलवायु परिवर्तन का वनों पर क्या प्रभाव पड़ रहा है?
 (A) जैव-विविधता में वृद्धि
 (B) उत्पादकता में वृद्धि
 (C) कार्बन पृथक्करण में वृद्धि
 (D) जंगल की आग और कीट के प्रकोप में वृद्धि [D]
133. अम्लीय वर्षा स्मारक के संगमरमर को सक्षारित करती है। घटना को भी कहा जाता है-
 (A) संगमरमर वृद्धि (B) संगमरमर विकास
 (C) संगमरमर कैसर (D) संगमरमर अनियमता [C]
134. निम्नलिखित में से कौन-सा यूनेस्को सूची के अनुसार एक विरासत स्थल नहीं है-
 (A) केवलादेव राष्ट्रीय उद्यान (B) जयपुर शहर
 (C) जंतर मंतर (D) बीकानेर का किला [D]
135. राजस्थान का राज्य नृत्य क्या है ?
 (A) मुंडारी (B) घूमर
 (C) भांगड़ा (D) पौवाड़ा [B]
136. राजस्थान की कला सोने का उपयोग कर काँच पर एक सूक्ष्म चित्रकारी (मिनट पेंटिंग) है।
 (A) देवरा (B) थेवा
 (C) फड (D) इनमें से कोई नहीं [B]
137. निम्नलिखित में से कौन सी नदी बंगाल की खाड़ी में गिरती है ?
 (A) घग्गर (B) लूनी
 (C) माही (D) चंबल [D]
138. प्रागैतिहासिक स्थल कालीबंगन राजस्थान के किस जिले में स्थित है-
 (A) बीकानेर (B) जयपुर
 (C) जैसलमेर (D) हनुमानगढ़ [D]
139. राजस्थान पर्यटन की टैगलाइन क्या है ?
 (A) लैंड ऑफ गोड्स
 (B) गोड्स ओन कंट्री
 (C) द इन्क्रेडिबल स्टेट ऑफ इंडिया
 (D) फुल ऑफ सरप्राइजेज [C]
140. खतौली के युद्ध में राणा साँगा ने किसे हराया था?
 (A) इब्राहिम लोदी (B) अकबर
 (C) सिकंदर लोदी (D) बाबर [A]
141. तेजाजी मेला हर साल राजस्थान में निम्नलिखित में से किस स्थान पर आयोजित किया जाता है ?
 (A) भिवाड़ी (B) उदयपुर
 (C) ब्यावर (D) परबतसर [D]
142. राजस्थान भारत का पहला ऐसा राज्य बन गया है जिसने बड़े पैमाने पर संचयी सौर प्रतिष्ठानों के GW को पार कर लिया है।
 (A) 15 (B) 10
 (C) 20 (D) 23 [B]
143. स्पोर्ट्स फॉर ऑल (SFA) स्पोर्टिंग सर्विसेज किस इवेंट के पावर्ड - बाय स्पॉन्सर के रूप में शामिल हुई ?
 (A) वुमेन अंडर-19 वर्ल्ड कप
 (B) खेलो इंडिया यूथ गेम्स
 (C) एफआईएच वुमेन हॉकी
 (D) खेलो इंडिया यूनिवर्सिटी गेम्स [D]
144. वयम रक्षामह (हम रक्षा करते हैं) किस सशस्त्र बल का आदर्श वाक्य है ?
 (A) भारतीय तट रक्षक (B) भारतीय नौसेना
 (C) भारतीय वायु सेना (D) भारतीय सेना [A]
145. राजस्थान सरकार की किस योजना के तहत महिलाओं के बेहतर स्वास्थ्य प्रबंधन के लिए महिलाओं और किशोरियों को हर महीने 12 सैनिटरी नेपकिन मुफ्त प्रदान किए जा रहे हैं ?
 (A) उड़ाण (B) शक्ति
 (C) पंख (D) प्रज्ञा [A]
146. निम्नलिखित में से किस शहर में आयुष मंत्रालय ने विश्व होम्योपैथी दिवस पर वैज्ञानिक सम्मेलन आयोजित किया ?
 (A) जयपुर (B) नई दिल्ली
 (C) भोपाल (D) शिमला [B]
147. 27 फरवरी को प्रधानमंत्री श्री नरेंद्र मोदी द्वारा कर्नाटक में निम्नलिखित में से किस हवाई अड्डे का उदघाटन किया गया था ?
 (A) मैसूरू हवाई-अड्डा (B) केम्पेगौडा हवाई-अड्डा
 (C) मैंगलोर हवाई-अड्डा (D) शिवमोग्गा हवाई-अड्डा [D]
148. किस देश को टैक्स हेवन के रूप में जाना जाता है, जिसने पहली बार 'फेडरल कॉर्पोरेट टैक्स' प्रस्तावित किया है ?
 (A) फिनलैंड (B) मॉरीशस
 (C) संयुक्त अरब अमीरात (D) स्विट्जरलैंड [C]
149. कौन सा शहर 2023 में '5वें आसियान-भारत व्यापार शिखर सम्मेलन' का मेजबान है ?
 (A) नई दिल्ली (B) कुआलालंपुर
 (C) ढाका (D) सिंगापुर शहर [B]
150. भारत के टाटा समूह और किस देश के समकक्ष के बीच एक संयुक्त उद्यम है ?
 (A) यूएसए (B) इजरायल
 (C) फ्रांस (D) जापान [A]

मुश्किल परीक्षाएं भी आसान लगेगी

SUNDAY SUPER SALE

जब करेंगे लक्ष्य क्लासेज के संग तैयारी
 मौका है, अपनी तैयारी को सिलेक्शन वाली तैयारी बनाने का

केवल Sunday 21 मई के लिए

BSTC

रिकॉर्ड और लाइव कोर्स मात्र में **₹499**

देर बीगिन मात्र में **₹99**

₹999 में लाइव फॉर्म क्लासरूम और रिकॉर्ड कोर्स खरीदने का अंतिम अवसर

Section - D / भाग-द

English / अंग्रेजी

151. Which sentence contains an infinitive?
 (A) She gave him the book.
 (B) They made dinner for themselves.
 (C) To sing is her passion.
 (D) He saw the car accident. [C]
152. Fill in the blank using appropriate forms of the verbs out of the given options:
 Not only you but your friend also To be blamed.
 (A) is (B) are
 (C) has (D) have [A]
153. Which sentence contains an appositive?
 (A) The car is blue.
 (B) My Friend, a doctor, is coming to visit.
 (C) She runs every day.
 (D) The movie was emotional as well as thrilling. [B]
154. Which sentence contains an indirect object?
 (A) She bought a very nice book.
 (B) They showed him the way.
 (C) He played football.
 (D) The flower bloomed beautifully. [B]
155. Find out synonym for the underlined word:
 Petrarch cultivated his fame and was the first genuine literary celebrity.
 (A) developed (B) sequence
 (C) despair (D) demonstrated [A]
156. Which sentence contains a transitive verb?
 (A) The bird flew away.
 (B) She slept soundly.
 (C) The children played in the park.
 (D) He ate the pizza. [D]
157. Which sentence contains a co-ordinating conjunction?
 (A) The sun was shining brightly in the sky since there were no clouds.
 (B) She had a headache, but she continued a teach her student.
 (C) After she had finished her work, she went for a walk.
 (D) He is tall, dark, and handsome. [B]
158. Department for military stores and supplies is known as?
 (A) Ordinance (B) Ordnance
 (C) Ordination (D) Ordinary [B]
159. Which sentence contains an adjective clause?
 (A) The girl who won the race was very happy.
 (B) He rode his bike to the store that was very near to his house.
 (C) She sang a song for the class.
 (D) We ate pizza and watched a movie. [A]
160. Which sentence contains a gerund?
 (A) He enjoys running in the morning.
 (B) She is reading a book.
 (C) They played tennis after school.
 (D) The bird sang a beautiful song. [A]
161. "War and Peace" is a book by Tolstoy?
 (A) write (B) written
 (C) wrote (D) writing [B]
162. Which sentence is an active sentence?
 (A) The cake was baked by my mother.
 (B) The car was driven by my brother.
 (C) She sang a song for the class.
 (D) The movie was watched by everyone in the theatre. [C]
163. Which sentence is an imperative sentence?
 (A) I think we should go to the beach.
 (B) Please turn off the lights when you leave.
 (C) He is reading a book about history.
 (D) They played basketball in the gym. [B]
164. Put the correct word from the options:
 I have been waiting here the last two hours.
 (A) since (B) for
 (C) in (D) over [A]
165. Which sentence is a declarative sentence?
 (A) Can you pass the salt, please?
 (B) What is your favorite colour?
 (C) The sun is shining today.
 (D) Wow! That was an amazing performance! [C]
166. Identify the complex sentence in the following options.
 (A) The dog barked and the cat ran away.
 (B) She went to the store after she finished her homework.
 (C) He is a great athlete who also excels in academics.
 (D) They, played soccer for hours and then had a picnic. [B]
167. Which sentence is in the interrogative form?
 (A) The movie was very entertaining.
 (B) She went to the store and bought some milk.
 (C) What time is the meeting?
 (D) He ran three miles this morning. [C]
168. Which sentence is a simple sentence?
 (A) The dog barked and the cat ran away.
 (B) The sun is shining and the birds are singing.
 (C) I walked to the store and bought some milk.
 (D) She loves to read books and magazines. [D]
169. Which sentence has a subject-verb agreement error?
 (A) The boy and the girl is walking to school.
 (B) He flowers in the garden are blooming.
 (C) He has two sisters and one brother.
 (D) She sings two dances on the stage. [A]
170. She My request for travelling together to UK.
 (A) turned down
 (B) turn off
 (C) turn on
 (D) turn out [A]

171. So..... that' and 'Such..... that' are the phrases which express
 (A) Adverb clause of noun
 (B) Adverb clause of verb
 (C) Adverb clause of manner
 (D) Adverb clause of result [D]
172. Which is the correct active sentence of the following passive sentence?
I was taken to the public library by my sister before I was able to read.
 (A) Before I was able to read, I was taken to the public library by my sister.
 (B) Before I was abled to read, my sister took me to the public library.
 (C) Before I was able to read, my sister took me to the public library."
 (D) I was taken to the public library before I knew how to read, by my sister. [C]
173. Give one word for: Irrational fear of crowds
 (A) Sitophobia (B) Ochlophobia
 (C) Astrophobia (D) Claustrophobia [B]
174. Choose the correct verb for the following sentence:
Either the manager or the associates the merchandise.
 (A) orders
 (B) order
 (C) is suppose to order
 (D) are supposed to orders [B]
175. A/An is a word of exclamatory, expressing a sudden feeling or excitement.
 (A) verb (B) adverb
 (C) interjection (D) noun [C]
176. "The sun smiled down on us."
The above is an example of
 (A) Irony (B) Metaphor
 (C) Personification
 (D) Both (Metaphor) and (Personification) [C]
177. Choose the correct meaning of the idiom or phrase given:
To make clean breast of
 (A) To gain prominence
 (B) To praise oneself
 (C) To confess without of reserve
 (D) To destroy before it blooms [C]
178. Choose the one which best expresses the given sentence in Indirect speech:
Manna asked Rohan, "Have you sat in a trolley bus before?"
 (A) Manna asked Rohan had he sat in a trolley bus carlier.
 (B) Manna asked Rohan had he sat in a trolley bus before.
 (C) Manna asked Rohan if he sat on a trolley bus before,
 (D) Manna asked Rohan if he has ever sat in a trolley bus. [*]
179. Find the correct word to complete the following proverb and familiar expression:
Strike while the is hot.
 (A) iron (B) water
 (C) metal (D) book [A]
180. Choose the most appropriate articles for the given sentence:
..... heavy rainfall last week was disaster to crops that were already in dismal state.
 (A) No article required, an, no article required
 (B) no article required, a, the
 (C) The, a, a
 (D) The, no article required, the [C]
181. Which of the following best expresses the same sentence in Passive Voice: **Do you understand what I mean?**
 (A) What I mean is that understood by you?
 (B) Was what I mean understood by you?
 (C) Is what I mean understood by you?
 (D) What I mean is understood by you? [D]
182. Which of the following options has the correct order of words to form an interrogative sentence?
 (A) A villian /was he/ not to do/ such a deed?
 (B) Was he/ not to do a villain/ such a deed?
 (C) He was a villain/ such a deed/ not to do?
 (D) Was he/ not a villain /to do/ such a deed? [D]
183. **No sooner had she read the telegram she fainted.**
 (A) then (B) than
 (C) therefore (D) there [D]
184. What is the meaning of the word 'vernacular language'?
 (A) formal language (B) informal language
 (C) foreign language (D) native language [D]
185. Use suitable prefix to make the opposite of the given word:
Contented
 (A) im (B) in
 (C) into (D) dis [D]
186. Which one of the following is an example of "Collective noun"?
 (A) Dog (B) Man
 (C) Federation (D) Milk [C]
187. Which word is an antonym for 'generous'?
 (A) stingy (B) charitable
 (C) kind-hearted (D) benevolent [C]
- Read the passage given below and answer the questions from Que. No. 188 to 192 by Choosing the answers from the given options:**
 Reading is an essential skill that students need to develop in order to be successful in their academic and professional lives. It is important to remember that reading is not just about decoding words on a page, but about understanding the meaning behind those

words. Reading comprehension is the ability to understand, analyze, and interpret what you read. There are several strategies that students their reading improve to comprehension. One of the most important strategies is to preview the text before reading it. This means looking at the title, headings, and any pictures or graphics to get an idea of what the text is about. Another strategy is to ask questions as you read. This can help you to clarify any confusion you may have and to stay focused on the main ideas of the text.

It's also important to note that reading comprehension is not just about understanding the words on the page, but also about making connections between the text and your own experiences or knowledge. This can help you to remember the information better and to apply it in different contexts.

Finally, reading comprehension is a skill that can be improved with practice. The more you read, the more opportunities you have to develop your comprehension skills. So, whether you're reading for pleasure or for work, take the time to practice and improve your reading comprehension skills.

188. According to the passage, what is reading comprehension?

- (A) The ability to read words on a page
(B) The ability to understand, analyze, and interpret what you read
(C) The ability to read quickly
(D) The ability to write about what you read [B]

189. What is one strategy students can use to improve their reading comprehension?

- (A) Only read the first and last sentences of each paragraph
(B) Skip over any pictures or graphics
(C) Preview the text before reading it
(D) Only read texts that are easy and familiar [C]

190. Why is it important to make connections between the text and your own experiences or knowledge?

- (A) To confuse yourself
(B) To remember the information better and to apply it in different contexts
(C) To ignore the text
(D) To make the text more difficult to understand [B]

191. According to the passage, how can reading comprehension be improved?

- (A) By avoiding difficult texts
(B) By only reading for pleasure
(C) By practicing reading
(D) By skipping over any pictures or graphics [C]

192. What is the main idea of the passage?

- (A) Reading is an essential skill for success.
(B) Students should only read texts that are easy and familiar.
(C) Previewing the text is not an important strategy for improving reading comprehension.
(D) Making connections between the text and your own experiences is not helpful for improving comprehension. [A]

193. One should oneself to whatever circumstances one is placed in.

- (A) adapt (B) adopt
(C) adept (D) acquire [A]

194. What is the meaning of the word 'quintessential'?

- (A) common (B) ordinary
(C) typical (D) exceptional [D]

195. Socrates was wisest of Greek philosophers.

- (A) the (B) a
(C) an wisest of Greek [A]

196. Which of the following is an example of a preposition?

- (A) sing (B) happy
(C) with (D) quickly [C]

197. Which of the following is an example of a conjunction?

- (A) of (B) because
(C) beautiful (D) this [B]

198. Select the word for the study of rhythm, sound, pause, stress and pitch features of a language particularly in poetry and speech.

- (A) programme (B) prosody
(C) prospect (D) protagonist [B]

199. Which of the following is an example of a possessive pronoun?

- (A) my (B) her
(C) its (D) all of these [C]

200. He is here,? Put question tag

- (A) didn't he? (B) won't he?
(C) isn't he? (D) needn't he? [C]

Section - D / भाग - द
Hindi / हिन्दी

151. किस विकल्प में शब्द-युग्म का अर्थ-भेद सही नहीं है ?

- | | |
|--------------|-------------------|
| शब्द-युग्म | अर्थ-भेद |
| (A) सबल-संबल | शक्तिशाली - सहारा |
| (B) हिय-हय | हृदय - घोड़ा |
| (C) हेम-हिम | स्वर्ण - पर्वत |
| (D) शोक- शौक | दुःख - आदत |

[C]

152. 'छछूंदर के सिर पर चमेली का तेल' कहावत का सही अर्थ बताइये।

- (A) योग्य पात्र को अच्छी वस्तु की प्राप्ति
(B) अयोग्य पात्र को अच्छी वस्तु की प्राप्ति
(C) तेल की खुशबू
(D) सिर में दर्द होना

[B]

153. 'टाट उलटना' - मुहावरे का अर्थ है

- (A) चालाकी से ले लेना (B) बेकार का काम करना
(C) दिवाला निकलना (D) बेइज्जती करना

[C]

154. निम्नलिखित में से किम विकल्प सभी शब्दों में उपसर्ग तथा प्रत्यय (दोनों) का प्रयोग हुआ है ?

- (A) अभिमुख, अधिगृह (B) अधिकार, प्रतिनायक
(C) प्रतिनिधित्व, पारिश्रमिक (D) स्वदेशी, प्रतिकूल

[C]

155. किस शब्द में 'आवट' प्रत्यय नहीं है ?

- (A) रुकावट (C) सजावट
(B) महावट (D) थकावट

[B]

156. निम्न में से किस शब्द का संधि विच्छेद सही नहीं है ?

- (A) सम् + विधान (B) नमः + कार
(C) महा + उष्ण (D) गा + अक

[D]

157. 'समुद्रोर्मि' शब्द किस संधि से बना है ?

- (A) दीर्घ संधि (B) वृद्धि संधि
(C) गुण संधि (D) यण संधि

[C]

158. इनमें से कौन बहुव्रीहि समास का उदाहरण नहीं है ?

- (A) नीलकंठ (B) गिरिधारी
(C) चन्द्रभाल (D) कमलनयन

[D]

159. किसी सार्थक शब्द का प्रयोग वाक्य में होता है तो उसे कहते हैं

- (A) पद (B) शब्द
(C) वाक्य (D) प्रोक्ति

[A]

160. इनमें से सकर्मक क्रिया का उदाहरण नहीं है।

- (A) रमेश कविता लिखता है।
(B) अध्यापक पुस्तक लाता है।
(C) मोहन रोता है।
(D) माँ रोटी पकाती है।

[C]

161. किस विकल्प में पुलिंग शब्द नहीं है ?

- (A) मोती, नियम (B) अनुमान, विहार
(C) मिठास, उदासी (D) साधन, पोषण

[C]

162. निम्नलिखित शब्दों पर विचार कीजिए:

1. अतिशयोक्ति 2. दुरगति
3. ज्योत्स्ना 4. नीरधि

किस विकल्प में सभी शब्द शुद्ध हैं ?

- (A) 2, 3 और 4 (B) 1 और 2
(C) 1, 3 और 4 (D) 2 और 3

[C]

163. निम्नलिखित में से किस विकल्प में मिश्र वाक्य नहीं है ?

- (A) उसने कहा कि मैं निर्दोष हूँ।
(B) रमेश चित्र दिखा रहा है और गीता चित्र बना रही है।
(C) जो लड़का गाता है, वह आ रहा है।
(D) यह पका आम है इसीलिए मीठा है।

[D]

164. व्याकरण की दृष्टि से निम्न में से कौन सा शुद्ध वाक्य है ?

- (A) फल बच्चे को काटकर खिलाओ।
(B) वह मेरे बाद पैदा हुआ था।
(C) कृष्ण राधा रास कर रही हैं।
(D) क्या आप यह पत्र पढ़ लिए हैं ?

[B]

165. किस वाक्यांश के लिए प्रयुक्त शब्द सार्थक नहीं है ?

- (A) बरसात के चार महीने - चातुर्मास्य
(B) तीन वेदों को जानने वाला - त्रिवेदी
(C) जिसकी इच्छा की गई हो - परिहार्य
(D) शक्ति का उपासक - शाक्त

[C]

166. 'रमा चली आ' में उद्देश्य है।

- (A) चली (B) रमा
(C) निर्मिति (D) कोई नहीं

[B]

167. एक मूल शब्द से दूसरा नया शब्द बनाने की प्रक्रिया को कहते हैं-

- (A) प्रपत्ति (B) व्युत्पत्ति
(C) निर्मिति (D) रीति

[B]

168. जिस धातु से सूचित होने वाला व्यापार और उसका फल कर्ता ही पर पड़े उसे _____ धातु कहते हैं।

- (A) अकर्मक (B) सकर्मक
(C) सजातीय (D) विजातीय

[A]

169. जब एक ही शब्दभेद के दो शब्दों के बीच में समुच्चयबोधक न हो, तब इस चिह्न का प्रयोग होता है-

- (A) पूर्णविराम (B) अर्द्धविराम
(C) अल्पविराम (D) आश्चर्यचिह्न

[C]

170. 'तौलिया' किस भाषा का शब्द है ?

- (A) पुर्तगाली (B) अंग्रेजी
(C) बांग्ला (D) उर्दू

[A]

171. इसका प्रयोग एक विभाग से दूसरे विभाग को तथा अपने संबद्ध तथा अधीनस्थ कार्यालयों के साथ होता है-

- (A) अर्द्ध सरकारी पत्र (B) परिपत्र
(C) कार्यालय ज्ञापन (D) सरकारी पत्र

[C]

172. निम्न में से कौन सा शब्द तद्भव है ?

- (A) साँझ (B) भिक्षा
(C) शिला (D) कूप

[A]

173. बाह्य प्रयत्न के ग्यारह भेदों में से दो प्रकार हैं-

- (A) विवृत-स्पृष्ट (B) अघोष-घोष
(C) ईषत-स्पृष्ट (D) ईषत - विवृत

[B]

174. 'मैया मोरी में नहिं माखन खायो' में निम्नलिखित में से कौन सा रस है ?

- (A) अद्भुत (B) वीर
(C) श्रृंगार (D) वात्सल्य

[D]

175. 'अगर वह काम करता होता, तो अब तक चतुर हो जाता।' में है-

- (A) संभाव्य वर्तमान काल (B) संदिग्ध वर्तमान काल
(C) अपूर्ण संकेतार्थ काल (D) अपूर्ण भूतकाल

[C]

176. जातिवाचक संज्ञा का उदाहरण है-

- (A) घर (B) धीरज
(C) पीड़ा (D) दौड़

[A]

177. तद्धित प्रत्यय के योग से बना शब्द है-

- (A) मनगढ़ंत (B) पियक्कड़
(C) खारू (D) कुम्भकार

[D]

178. अनिश्चयवाचक सर्वनाम का उदाहरण कौन सा है ?

- (A) सो (B) कोई
(C) कौन (D) क्या

[B]

179. पाँच वटों का समाहार को इंगित करता सार्थक शब्द है-

- (A) पंचानन (B) पंचामृत
(C) पंचवट (D) पंचमी [C]

180. कोढ़ में खाज होना मुहावरे का अर्थ है-

- (A) एक दुःख पर दूसरा दुःख होना
(B) बुरी तरह पीछे पड़ना
(C) जान-बूझकर अन्याय सहना
(D) अत्यधिक साहसी होना [A]

181. निम्नलिखित में से किस विकल्प में संयुक्त वाक्य है ?

- (A) काम पूरा करो और जाओ।
(B) यदि काम पूरा नहीं हुआ तो शिक्षा होगी।
(C) ज्यादा बारिश होने पर सब बरबाद हो जाएगा।
(D) उसने गलत काम करके अवश्य कमाया। [A]

182. निम्नलिखित में से कौन से शब्द की वर्तनी शुद्ध है ?

- (A) व्यावारिक (B) व्यावहारीक
(C) व्यवहारिक (D) व्यवहारिक [*]

(प्र.सं. 183 से 187) अनुच्छेद को पढ़कर पूछे गए प्रश्नों के उत्तर दीजिए:

यदि हम किसी के बोझ को हलका कर सकें, यदि हम किसी के खेद को कम कर सकें, यदि हम किसी के कष्ट को नष्ट कर सकें, यदि हम किसी के दुःख में सहानुभूति की शीतल कोमल वर्षा कर सकें तो इस प्रकार की मानसिक शक्ति से हमें जो लाभ प्राप्त होगा, वह अन्य किसी भी प्रकार की योग्यता से प्राप्त नहीं हो सकता।

आशा का सूर्योदय होते ही निराशा की निशा लुप्त हो जाती है, मुस्कान तथा हँसी के प्रकट होते ही खिन्नता तथा उदासी दूर हो जाती है। उल्लास की भावना मन में आते ही चिंता नष्ट हो जाती है और दयालुता तथा परोपकार की भावना मन में आते ही अपना दुःख दूर हो जाता है।

आनंद से परिपूर्ण आत्मा वाले मनुष्य के आते ही लोग मुस्कान द्वारा उसका स्वागत करते हैं, उनसे वार्तालाप करते हुए असीम प्रसन्नता का अनुभव करते हैं और सम्पूर्ण वातावरण में हर्ष और प्रसन्नता की सुरभि -सी प्रसारित हो जाती है।

यदि आप अपने काम-धंधे का वीतर और विकास करना चाहते हैं और इससे अधिक अच्छा अन्य उपाय कोई नहीं हो सकता की आप अपना स्वभाव प्रसन्नतामय, उल्लासमय और हर्ष - समन्वित बना लें। चित्त में दूसरों की सेवा की भावना जाग्रत कर लें। सामाजिक संबंधों में सौमनस्य लाने के लिए इससे उत्तम उपाय है ही नहीं। उल्लास तथा परोपकार मन में लाते ही आपको व्यापार के पीछे नहीं भागना पड़ेगा, अपितु वह स्वयं आपकी ओर उमुड़ा आएगा। मित्र आपसे मिलने के लिए लालायित रहेंगे और आपका व्यवसाय दिन दूनी रात-चौगुनी गति से उन्नति करेगा।

183. उल्लास और परोपकार का भाव मन में लाने से कौन सा परिवर्तन नहीं होगा ?

- (A) चिंता नष्ट हो जाएगी।
(B) सुख-दुःख का अभाव हो जाएगा।
(C) व्यापार स्वयं आपकी ओर उमड़ा आएगा।
(D) मित्र आपसे मिलने के लिए लालायित रहेंगे। [A]

184. आपका व्यवसाय दिन-दूनी रात-चौगुनी उन्नति करेगा। "दिन-दूनी रात-चौगुनी उन्नति" मुहावरे का कौन सा सही अर्थ है ?

- (A) दिन ईद और रात शबरेरात होना।
(B) दिन फिर जाना।
(C) दिन भारी हो जाना।
(D) अच्छी तरक्की होना। [D]

185. आनंद से परिपूर्ण आत्मा वाले मनुष्य के संपर्क से कौन सा प्रभाव पड़ता है ?

- (A) लोग मुस्कान द्वारा उसका स्वागत करते हैं।
(B) कुछ लोग निराशा के कूप में डूब जाते हैं।
(C) वार्तालाप करते हुए लोग असीम विकलता का अनुभव करते हैं।
(D) सम्पूर्ण वातावरण में नैराश्य और अवसन्नता सी प्रसारित हो जाती है। [A]

186. आपको व्यापार के पीछे नहीं भागना पड़ेगा, यदि आप

- (A) व्यापार में चतुराई से काम करेंगे।
(B) आनंद से परिपूर्ण आत्मा वाले मनुष्य से मिलेंगे
(C) अपना स्वभाव प्रसन्नतामय, उल्लासमय और हर्षसमन्वित बना लेंगे।
(D) जीवन में निराशा के कारणों का विश्लेषण करेंगे। [C]

187. अनुच्छेद का उपयुक्त शीर्षक है-

- (A) मानसिक शक्ति
(B) उल्लास तथा परोपकार की महत्ता
(C) आशावादिता
(D) जीवन के प्रति स्वस्थ दृष्टिकोण [B]

188. किस विकल्प में दोनों वर्ण अल्प प्राण हैं ?

- (A) छ, झ (B) ठ, थ
(C) क, ग (D) अ, आ [C]

189. निम्नलिखित में से कौन सा शब्द देशज नहीं है-

- (A) तेंदुआ (B) कचोट
(C) करवट (D) कंचन [D]

190. निम्नलिखित में से अर्ध स्वर कौन सा है ?

- (A) य (B) प
(C) त्र (D) क्ष [A]

191. किस विकल्प में सभी घोष ध्वनियाँ हैं ?

- (A) क, ग (B) ग, घ
(C) च, झ (D) त, ध [B]

192. किस विकल्प में सभी शब्द परस्पर पर्यायवाची नहीं हैं ?

- (A) कुबेर, वैश्रवण, यक्षराज (B) चाप, धनु, चपला
(C) निर्वाण, कैवल्य, मुक्ति (D) रसना, जिह्वा, जीभ [B]

193. किस विकल्प में 'Integration' शब्द का समकक्ष हिंदी पारिभाषिक शब्द सही है ?

- (A) एकीकरण (B) मूल्यांकन
(C) मानदेय (D) अधिवास [A]

194. किस विकल्प में सभी शब्द परस्पर पर्यायवाची हैं?

- (A) शार्दूल, केशरी, गजराज (B) अनुपम, अब्दुत, अनूठा
(C) आगार, भंडार, अंगार (D) सविता, सूर्य, स्त्री [B]

195. किस विकल्प में सभी शब्द परस्पर पर्यायवाची हैं?

- (A) हृदय, मन, उरग (B) निकेतन, सदन, ग्रह
(C) आम्र, रसाल, अमृतफल (D) हाथी, द्विप, मूर्गेद्र [C]

196. किस विकल्प में सभी शब्द परस्पर पर्यायवाची हैं?

- (A) मीनाक्षी, सुंदरी, मछली (B) सुमन, प्रसून, पुहुप
(C) पराग, सुकुमार, सुगंध (D) विषाद, वेदना, हर्ष [B]

197. किस विकल्प में सही विलोम-युग्म नहीं है ?

- (A) अमावस्या x पूर्णिमा (B) सदाचार x दुराचार
(C) एकत्र x विकीर्ण (D) तीव्र x द्रुत [D]

198. किस विकल्प में सही विलोम-युग्म है ?

- (A) आर्द्र x शुष्क
(B) कीर्ति x उपकीर्ति
(C) वृद्धि x विस्तार
(D) भोगी x विलासी [A]

199. किस विकल्प में सही विलोम-युग्म नहीं है ?

- (A) समास- व्यास (B) भोक्ता भोग्य
(C) प्रसन्न विषण्ण (D) दुर्गम - सुगम [C]

200. किस विकल्प में शब्द-युग्म का अर्थ भेद सही नहीं है?

- शब्द-युग्म अर्थ-भेद
(A) अनल अनिल आग - हवा
(B) दामन - दमन आँचल - दबाना
(C) विषण्ण - विपन्न प्रसन्न - अवसादित
(D) अवर प्रवर कनिष्ठ - श्रेष्ठ [C]